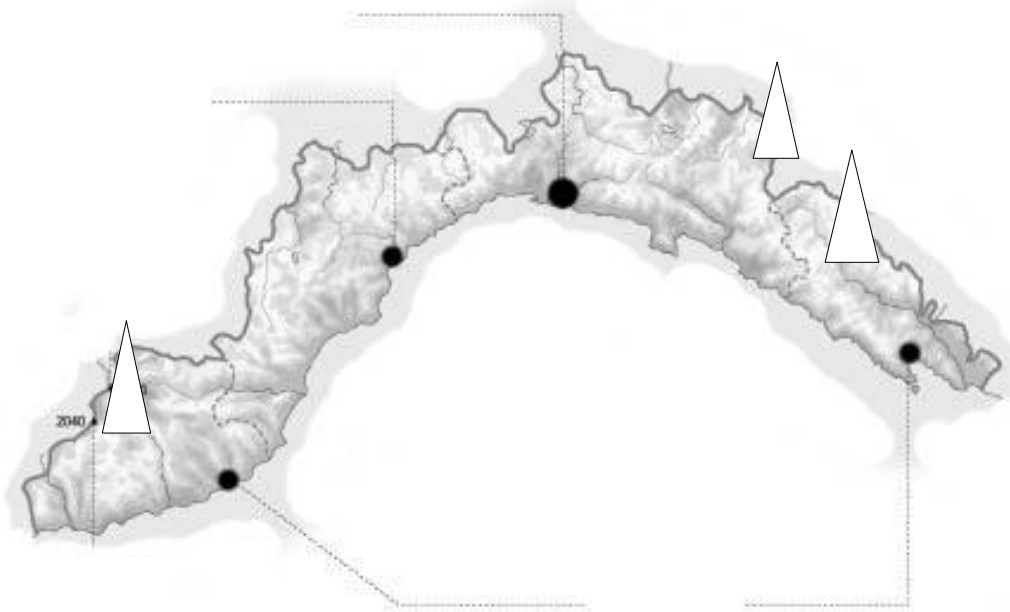


prova di verifica: Liguria ed Emilia Romagna

LIGURIA



1. Confini:

2. Colloca sulla carta muta:

catene montuose

monti:  Saccarello  Gottero  Maggiorasca

passi: col di Nava, colle di Cadibona, passo dei Giovi, passo del Bracco

capoluoghi

Le cinque terre, la riviera di levante e quella di ponente

3. Perché i corsi dei fiumi sono brevi?

.....

4. Come sono le coste della regione?

.....

5. Com'è il clima?

.....

6. Quali sono i prodotti maggiormente coltivati?

.....

7. Perché?

.....

.....

8. Perché i Liguri non si dedicano molto alla pesca?

.....

.....

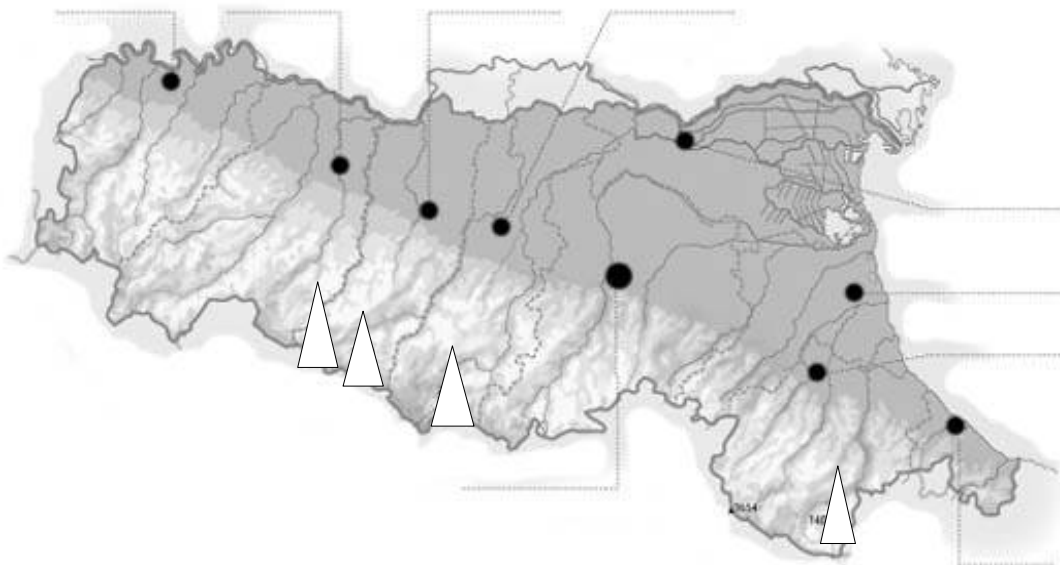
9. Quali sono le attività economiche più redditizie della regione?

.....

.....

.....

EMILIA ROMAGNA





1. Confini:

2. Il territorio: disegna il grafico

descrivi:

3. Cosa sono i calanchi?

Indica sulla cartina:

monte Cimone  Fumaiolo  Cusna  Alpe di Succiso 

catene montuose:

Passi: della Cisa, dell'Abetone, di Cento croci

Fiumi: Po, Taro, Secchia, Panaro, Reno

Le Valli di Comacchio

Capoluoghi:

4. Molti capoluoghi si trovano lungo la via, costruita dagli
.....per

5. In pianura si coltivano
in collina si coltivano
si allevano; grazie ai prodotti dell'
agricoltura si è sviluppata
Le altre industrie sono
il turismo si è sviluppato

.....
.....
.....
.....

6. In questa regione scorre un fiume d'importanza storica. Quale?
Quale personaggio ti ricorda?

.....
.....
.....