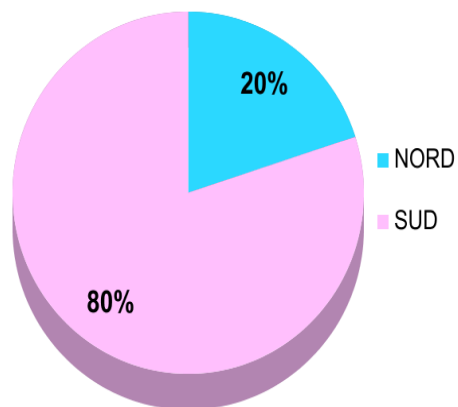


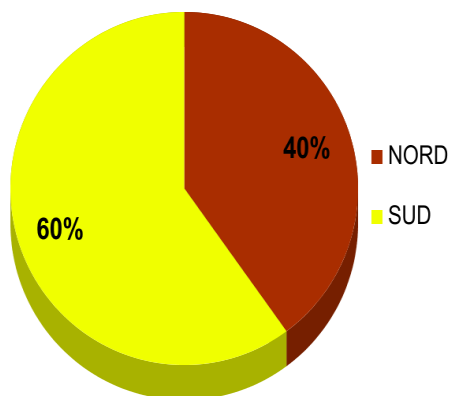
NORD E SUD DEL MONDO

Leggi i grafici:

POPOLAZIONE RESIDENTE



CONSUMO DI ALIMENTI



Scrivi le tue osservazioni:

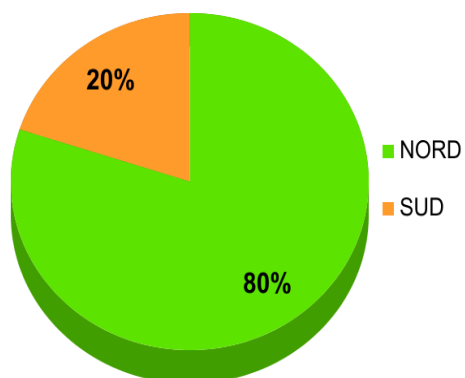
Nel nord del mondo

.....

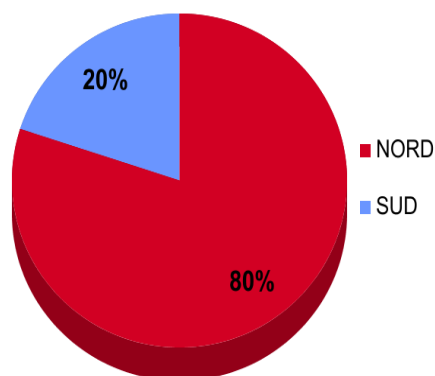
mentre nel sud

.....

CONSUMO DI ENERGIA



PRODUZIONE INDUSTRIALE



Scrivi le tue osservazioni:

.....

.....
.....
.....

Perchè le ricchezze sono distribuite in questo modo?

Le risorse naturali sono un'importante fonte di ricchezza per un Paese.

Queste risorse sono state utilizzate per sviluppare **le industrie**.

Le industrie producono molti dei prodotti che utilizziamo e quindi sono la principale fonte di ricchezza.

E così i Paesi con un maggior sviluppo industriale sono i più ricchi, mentre gli altri, dove lo sviluppo industriale è assente, sono più poveri.