

Prove di verifica

**Come si sono formate le diverse pianure?
Collega con una freccia.**

Pianure **alluvionali**

ceneri emesse dai vulcani

Pianure di **sollevamento**

depositi dei detriti dei fiumi

Pianure **vulcaniche**

innalzamento del fondo marino

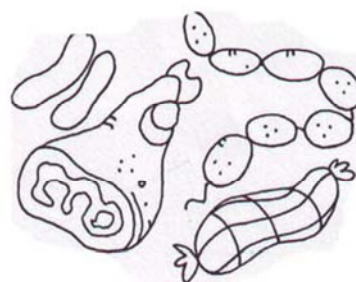




COM'E' IL TERRITORIO IN PIANURA ?

Segna con una crocetta la risposta giusta

- Fertile
- Ricco d'acqua
- Non adatto alla coltivazione
- Povero d'acqua
- Permette di essere coltivato
- Difficile da lavorare

DALL'AGRICOLTURA E DALL'ALLEVAMENTO ALL'INDUSTRIA

Collega con una freccia il prodotto primario con quello trasformato.



**Scrivi nei cartellini al posto giusto i nomi degli elementi
che puoi trovare in pianura scegliendo tra:
fiume – campi coltivati – allevamenti – industrie
Vie di comunicazione – città .**

