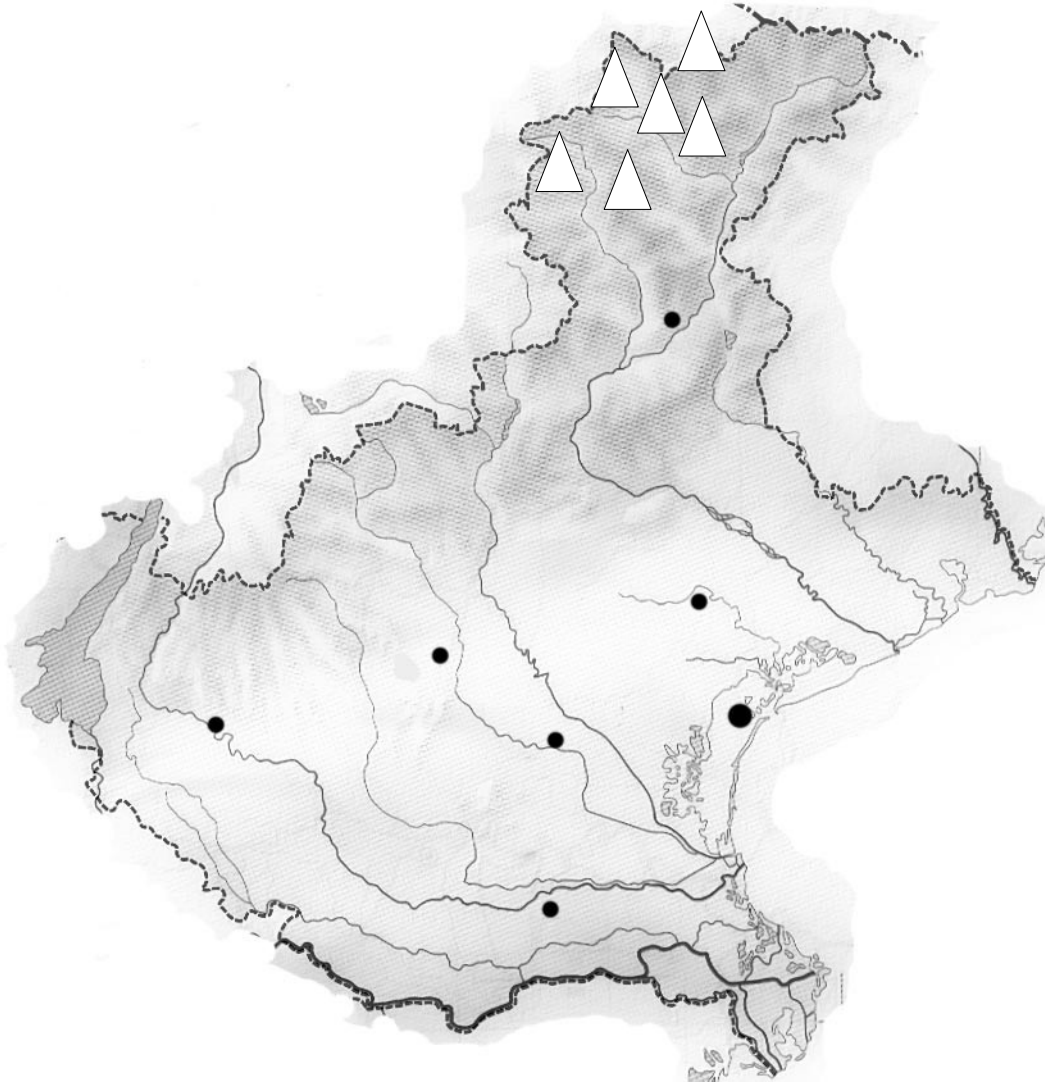








NOME .....

DATA .....

### IL VENETO - VERIFICA



1. Localizza sulla carta muta:

- MONTI:**
- |  |   |   |
|--|---|---|
|  Tre Cime di Lavaredo |  Marmolada |  Civetta   |
|  Cristallo            |  Antelao   |  Le Tofane |

**PASSI:** Monte Croce Comelico, Mauria, Pordoi

- COLLINE:**
- |   |  |   |
|---|--|---|
|  Monti Berici, |  Colli Euganei, |  Monti Lessini |
|---|--|---|

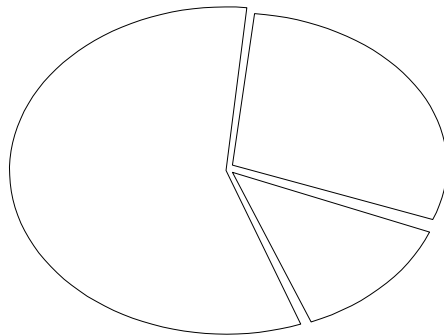
FIUMI: Po, Livenza, Brenta, Adige, Piave

CITTA' CAPOLUOGO

IL POLESINE, IL CADORE, LE DOLOMITI

GLI AEROPORTI

**2. Colora il grafico del territorio regionale ( la pianura, la collina, la montagna ) con i colori corrispondenti e poi verbalizza**



.....

.....

.....

.....

**3. Collega ogni zona al suo clima**

CADORE

MITE

LAGO DI GARDA

ALPINO

IESOLO




CONTINENTALE

TREVISO

MITE

4. Questa carta indica la densità di popolazione. Osservalo bene assieme alla legenda e poi verbalizza

abitanti per Km<sup>2</sup>

	Meno di 100
	Da 100 a 200
	Più di 200



.....

.....

.....

.....

.....

5. Quali sono le principali attività lavorative della popolazione?

.....

.....

.....

6. Quale tipo di industria è maggiormente sviluppato?

.....

.....

7. Quali sono e dove sorgono le grandi industrie?

.....

.....

8. Quali sono i principali prodotti dell'agricoltura?

.....

.....

.....

.....

9. Indica quali sono i principali poli turistici della regione e perché sono importanti

.....

.....

.....

.....

.....

.....