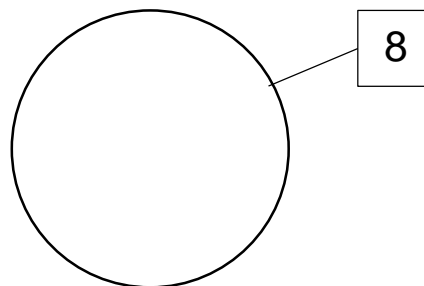
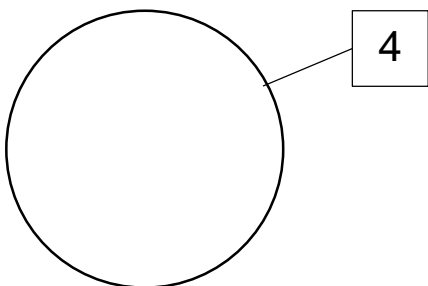
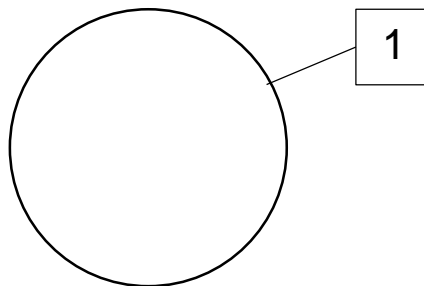
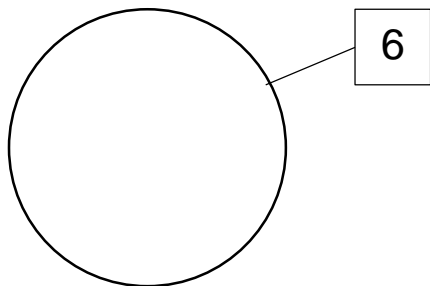

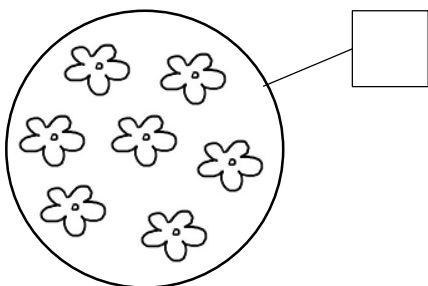
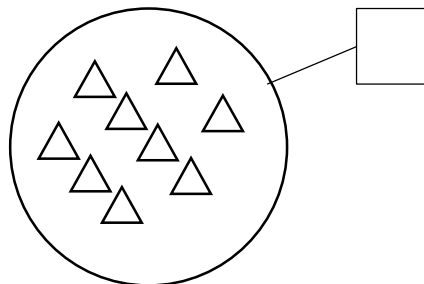
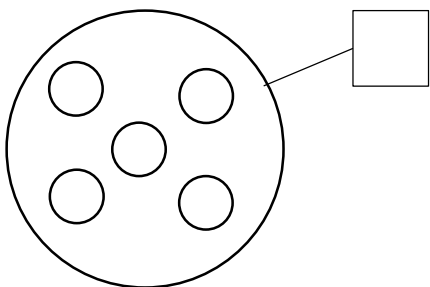


NOME ALUNNO

SEZIONE

A. SCRIVI IL NUMERO DEGLI ELEMENTI O DISEGNA LA QUANTITÀ DI ELEMENTI INDICATA DAL NUMERO.



B. SCRIVI SULLA LINEA I NUMERI CHE MANCANO.

0				4					9
---	--	--	--	---	--	--	--	--	---

C. RISCRIVI I NUMERI NELL'ORDINE INDICATO.

CRESCENTE

3	5	6	2	4

DECRESCENTE

8	9	5	6	7

D. CONFRONTA GLI INSIEME USANDO I SIMBOLI $>$ $<$ $=$ E SCRIVI IL NUMERO DEGLI ELEMENTI.

SEGUI L'ESEMPIO.

E. CONTA GLI ELEMENTI E CERCHIA IL NUMERO GIUSTO.

0 1 2 3 4 5 6 7 8 9

0 1 2 3 4 5 6 7 8 9

ZERO
UNO
DUE
TRE
QUATTRO
CINQUE
SEI
SETTE
OTTO
NOVE

ZERO
UNO
DUE
TRE
QUATTRO
CINQUE
SEI
SETTE
OTTO
NOVE