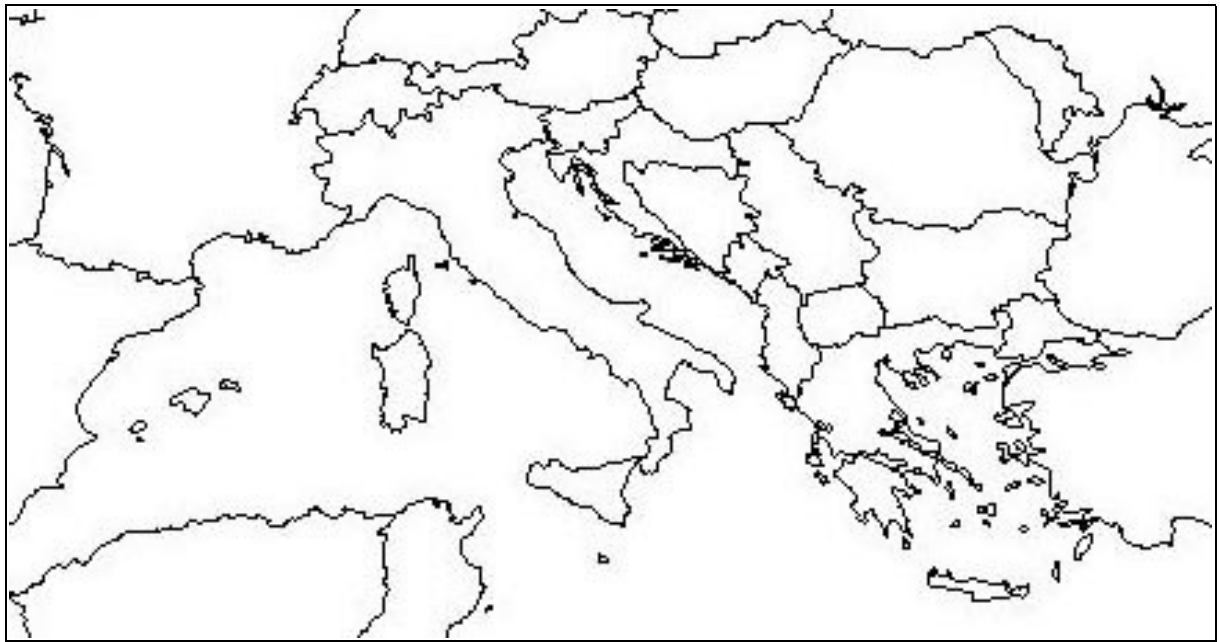


NOME

DATA

VERIFICA DI STORIA: GRECIA – I^A PARTE




a) Colora di azzurro la Grecia

b) Sulla carta indica con una X rossa la città di Sparta e con una X blu la città di Atene

Rispondi alle domande:

1. Perché verso il 1000 a. C. i Fenici furono i dominatori del Mediterraneo?
2. Perché qualche tempo dopo i Greci ripresero i commerci?
3. Perché l'incontro con i Fenici fu importante per i Greci?
4. Perché i Greci si sentivano un unico popolo anche se vivevano divisi in gruppi?
5. Cos'è la Magna Grecia?
6. Come nacque?
7. Quali erano i rapporti fra le colonie e la madrepatria?

8. Osserva questo reperto. Di cosa si tratta?



9. Perché gli storici dispongono di molte informazioni sulle davi da guerra e meno sulle navi mercantili?

10. Spiega il significato dei seguenti termini:

DEMOCRAZIA:

POLIS:

AGORA':

ACROPOLI:

CITTADINO:


ARISTOCRAZIA:

COLONIA:

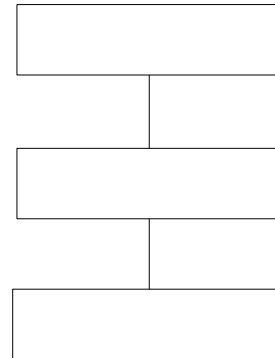
MADREPATRIA:

11. Completa gli schemi:


Sparta: le classi sociali



il governo della città



Atene: le classi sociali



il governo della città



12. Qual era il ruolo della donna nelle due città?