











MINORE

- ① - Disegna le frecce seguendo le indicazioni e completa.

- LA FRECCIA DICE: È MANGIATO DA... →

			I		SONO	<input type="text"/>
			I		SONO	<input type="text"/>
			VI È UN		PER	
			OGNI		?	<input type="text"/> SÌ <input type="text"/> NO
			PERCHÉ...	<input type="text"/> 3 È MINORE DI 5		

- LA FRECCIA DICE: È RIEMPITO DALLA... →

		IL		È	<input type="text"/>
		LE		SONO	<input type="text"/>
		VI È UN		PER	
		OGNI		?	<input type="text"/> SÌ <input type="text"/> NO
		PERCHÉ...	<input type="text"/> È MINORE DI <input type="text"/>		