

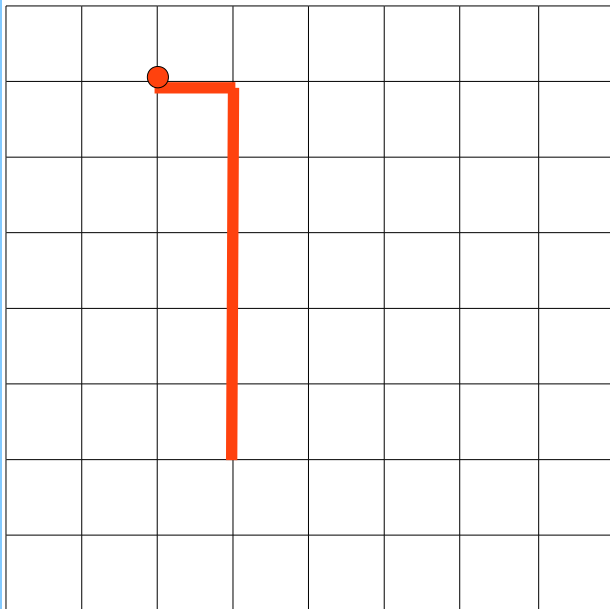
CHE COSA APPARIRA'?

SEGUI LE INDICAZIONI DELLE FRECCHE E TRACCIA IL PERCORSO SUI QUADRETTI



PUNTO DI PARTENZA

PERCORSO 1



1 QUADRETTO →

5 QUADRETTI ↓

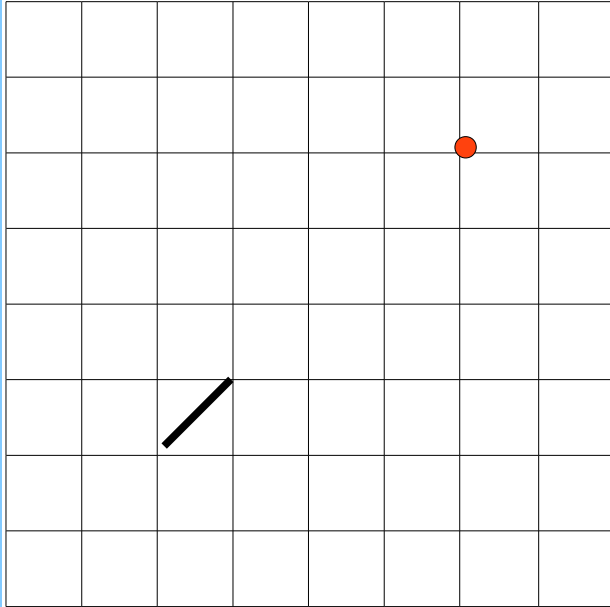
2 Q. →

1 Q. ↓

3 Q. ←

6 Q. ↑

PERCORSO 2



2 QUADRETTI ↓

2 QUADRETTI ↙

1 Q. ←

1 Q. ↑

1 Q. ←

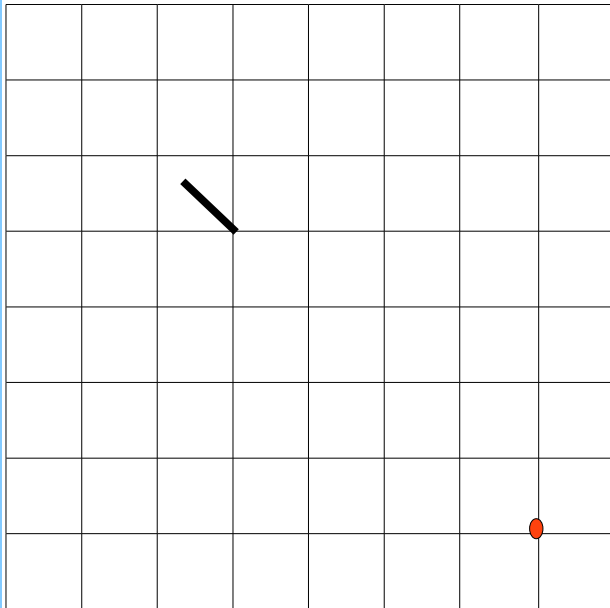
1 Q. ↑

2 Q. ↗

2 Q. →

HO DISEGNATO

PERCORSO 3



- 2 QUADRETTI ↖
- 2 QUADRETTI ←
- 2 Q. ↖
- 2 Q. →
- 2 Q. ↑
- 2 Q. ↘
- 2 Q. ↓

HO DISEGNATO