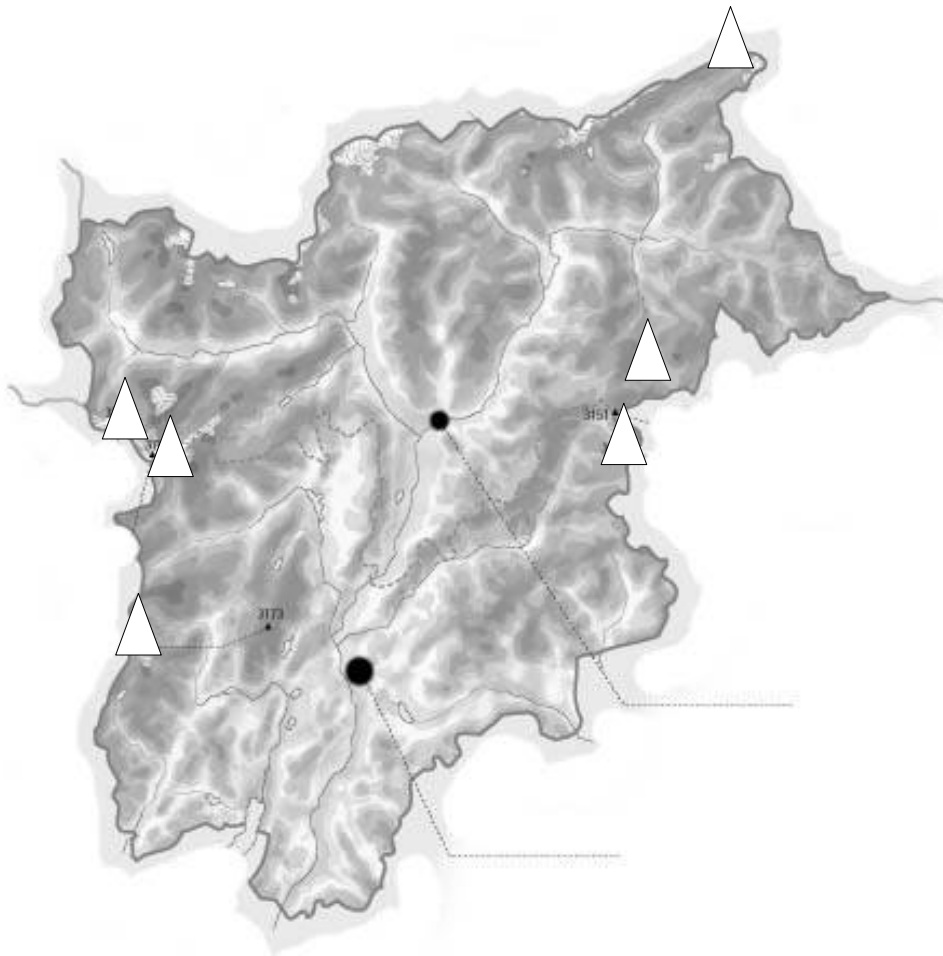


IL TRENTINO ALTO ADIGE – prova di verifica



Indica sulla carta muta:

MONTI:

Vetta d' Italia ▲ Marmolada ▲ Ortles ▲
Cevedale ▲ Adamello ▲ Gruppo di Sella ▲

PASSI: Pordoi, Brennero, di Resia, dello Stelvio

VALLI: di Sole, di Non, Venosta, Pusteria, di Fiemme, Sugana

FIUMI: Adige, Brenta, Isarco, Sarca, Chiese

LAGHI: Levico e Caldonazzo, Garda, Molveno, Santa Giustina

CAPOLUOGHI:

PARCO NATURALE

Com'è il clima della regione?

.....
.....
.....
.....

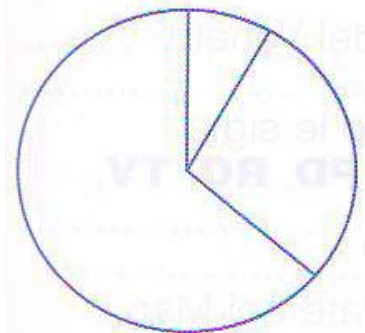
IL LAVORO DELL'UOMO

Colora il grafico con le attività economiche della regione

Settore primario

Settore secondario

Settore terziario



Verbalizza il grafico

.....
.....
.....
.....

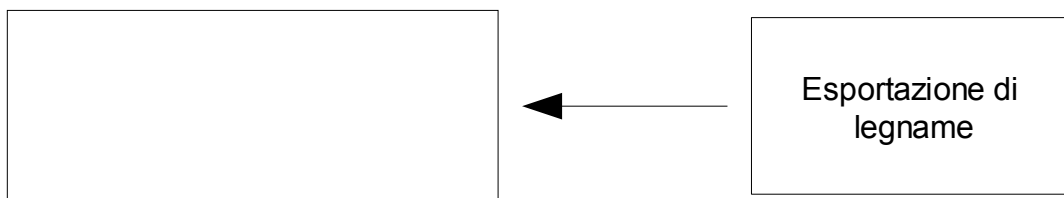
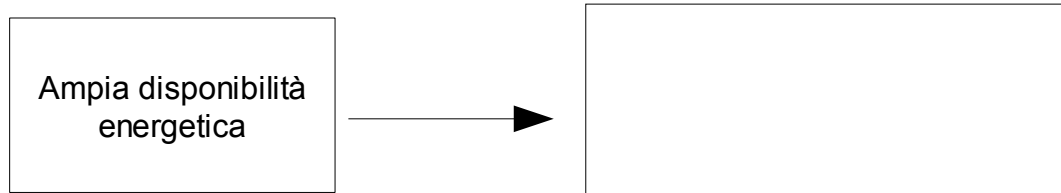
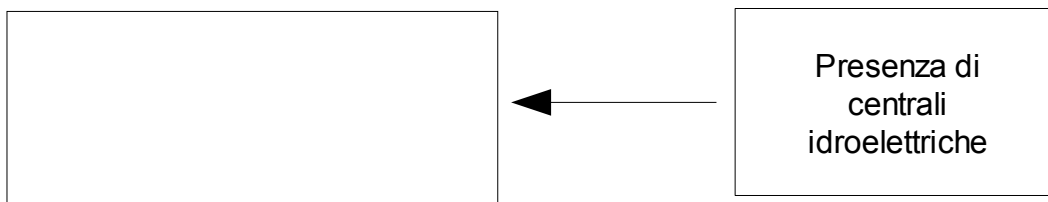
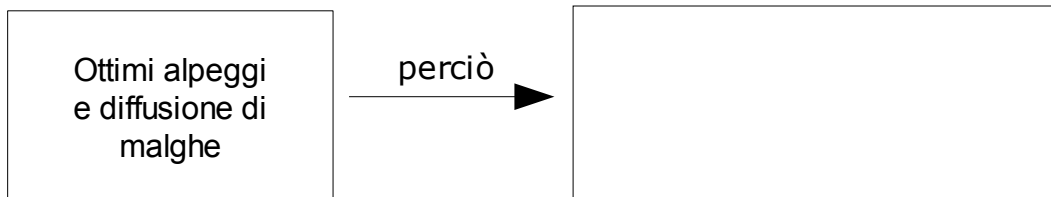
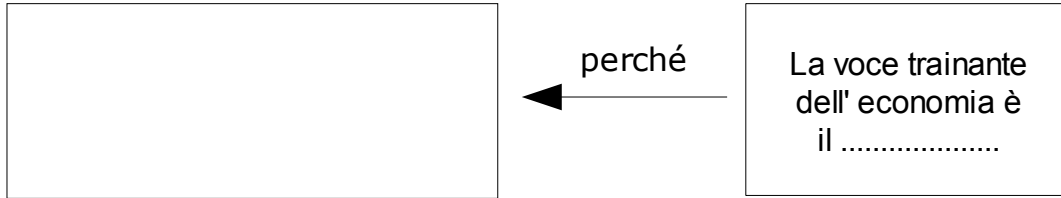
Spiega cosa significa:

Settore primario:

Settore secondario:

Settore terziario:

COMPLETA GLI SCHEMI:



COLORA SOLO I PRODOTTI TIPICI DELLA REGIONE:

MELE

CEREALI

SPECK

OLIO D'OLIVA

ORTAGGI

SOIA

VINO

MIELE

Trento e Bolzano sono due province autonome. Questo significa che:

-
-
-

Nella provincia di Trento la lingua ufficiale è, mentre nella provincia di Bolzano c'è il di e In alcune zone montane si parla il